


ΕΡΓΑΣΤΗΡΙΑΚΟ ΜΑΘΗΜΑ 4 : Μητρική Πλακέτα - Θήκες Η/Υ

Τάξη: Β ΗΛ

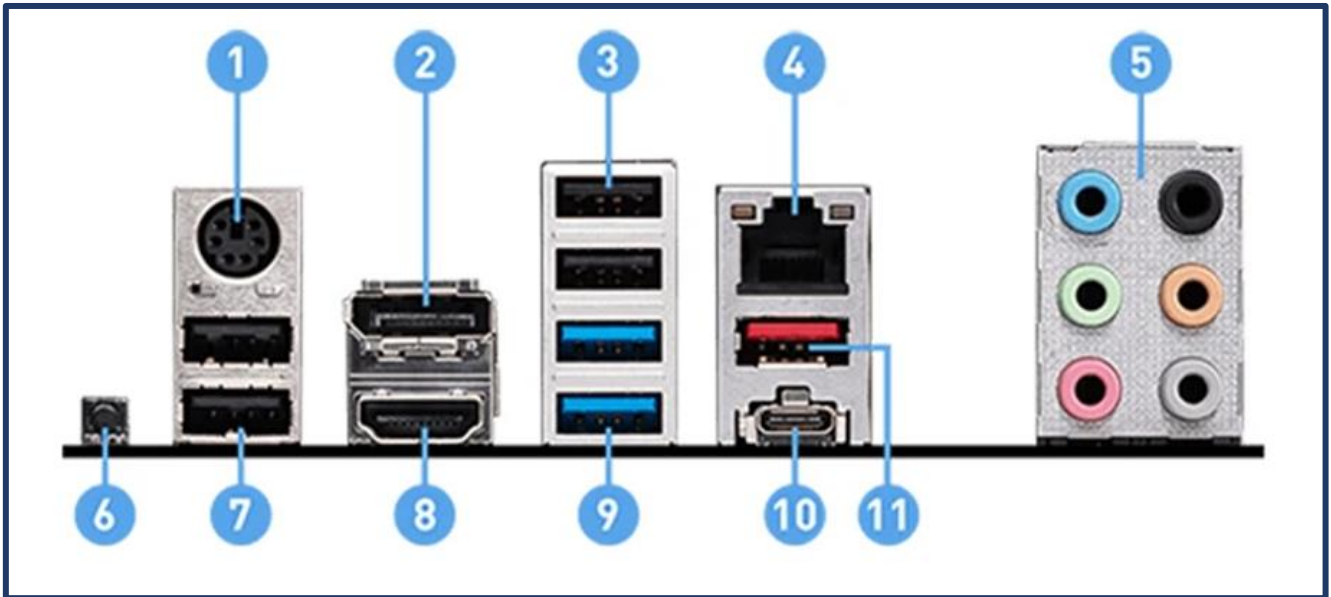
Όνοματεπώνυμο: _____

Α. Να αναγνωρίσετε τα βασικά μέρη της παρακάτω μητρικής πλακέτας και να τα καταγράψετε στα αντίστοιχα πλαίσια. Όπου υπάρχουν ψυκτρες να αναφέρεται τι υπάρχει από κάτω.

Τύπος Μητρικής με βάση το μέγεθος:




Β. Να αναγνωρίσετε και να καταγράψετε τις θύρες εισόδου εξόδου που βλέπετε στην παρακάτω εικόνα.



1. _____
2. _____
3. _____
2. _____
5. _____
6. _____
7. _____
8. _____
9. _____
10. _____
11. _____

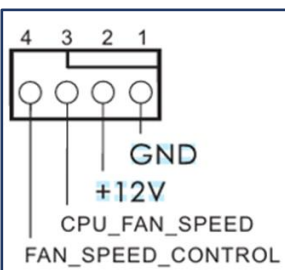

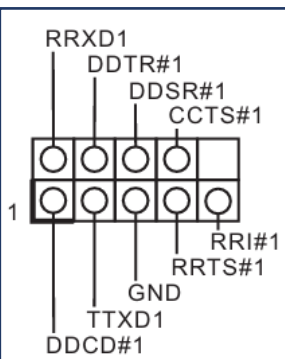

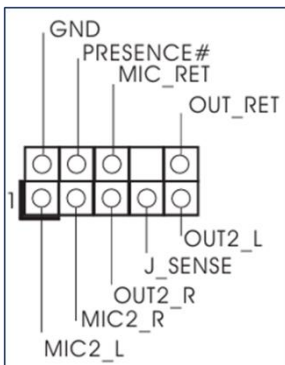
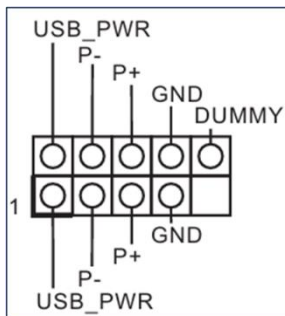
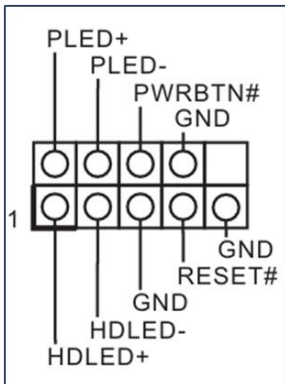
Γ. Σε τι χρησιμεύει η υποδοχή της φωτογραφίας;



Δ. Αντιστοιχίσετε τα στοιχεία της Α στήλης με τα στοιχεία της Β στήλης και να συμπληρώσετε τα κενά πλαίσια με τις ονομασίες που δίνονται:

(Ακίδες μπροστινού πίνακα, ακίδες σύνδεσης θυρών USB 2.0, ακίδες σύνδεσης θυρών USB 3.0, Ακίδες ήχου μπροστινού πίνακα, Ακίδες σύνδεσης σειριακής θύρας COM, Ακίδες σύνδεσης ανεμιστήρα CPU)

Στήλη Α



Στήλη Β

